


Exercice 1 ★



On considère les deux carrés ci-dessous, on aimerez déterminer lequel est le plus sombre.
(C'est à dire que l'aire de la partie noire est la grande.)



- Proposer une méthode pour déterminer le carré le plus sombre.
-

Exercice 2 ★

On considère les deux carrés ci-dessous, on aimerez déterminer lequel est le plus sombre.
(C'est à dire que l'aire de la partie noire est la grande.)



- Proposer une méthode pour déterminer le carré le plus sombre.
-