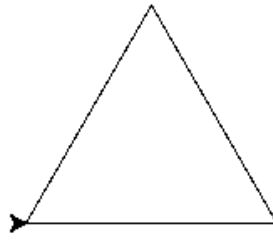


Les défis Turtle

Exercice 1

Reproduire un triangle équilatéral de 100 px de côté.



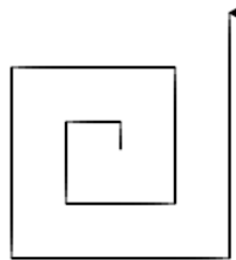
Exercice 2

Reproduire les deux carrés de 100 px de côté espacés de 100 px.



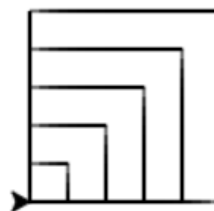
Exercice 3

Reproduire la figure ci-contre, le plus petit segment est de 10 px, puis la taille de chaque nouveau segment augmente de 10px.



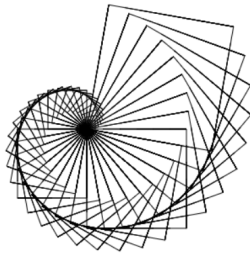
Exercice 4

Reproduire la figure ci-contre, la longueur du côté du plus petit carré est de 10 px, puis le côté de chaque nouveau augmente de 10px.



Exercice 5

Reproduire la figure ci-contre, composée de 36 carrés. La longueur du côté du plus petit carré est de 10 px, puis le côté de chaque nouveau augmente de 10px.



Exercice 6

Reproduire le figure ci-contre, composée 6 triangles équilatéraux de 150px de côtés.

